


Les «six» prennent le départ du Marché Commun...



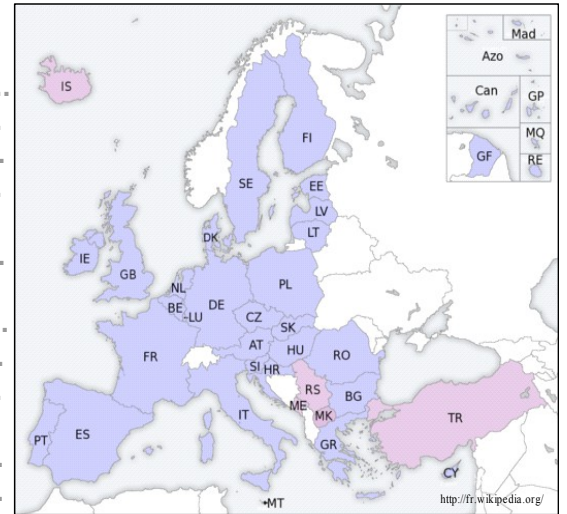
L'Europe de 6 à 27... et plus ?

Document 1 : Que représentent chacun de ces cyclistes ?

A ton avis, quel est le message de cette affiche ?

Document 2 : retrouve le nom d'au moins 10 pays de l'Union Européenne :


- | | | | |
|----|-------|----|-------|
| AT | | SE | |
| DE | | BE | |
| BG | | CY | |
| DK | | ES | |
| EE | | FI | |
| FR | | EL | |
| HU | | IE | |
| IT | | LV | |
| LT | | LU | |
| MT | | NL | |
| PL | | PT | |
| CZ | | RO | |
| UK | | SK | |
| SI | | HR | |



Document 3 : Que représente le logo qui est en bas de la tour ?

Document 4 : Quels pays ont participé à la réalisation de cette fusée Ariane ?

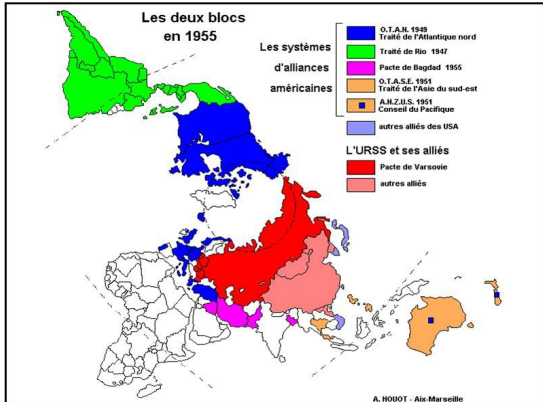
A ton avis, pour quelles raisons ont-ils travaillé à plusieurs ?



Document 5 : Que font ces gens ?



A ton avis, pourquoi font-ils cela ?



Document 8 : En 1955, quels sont les pays du bloc américain ?

En 1955, quels sont les pays du bloc russe (U.R.S.S.) ?

Document 9 : Où se trouve Berlin ?

A ton avis, pourquoi a-t-on coupé la ville par un mur en 1961 ?



Document 10 : Quel événement est présenté dans ce journal ?



Qu'est-ce qui montre que cet événement est très important ?

Document 11 : Quels sont les pays les plus riches de l'Union Européenne ?

Quels sont les pays les plus pauvres de l'Union Européenne ?

